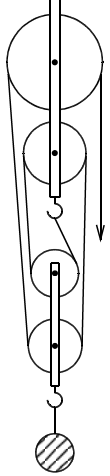


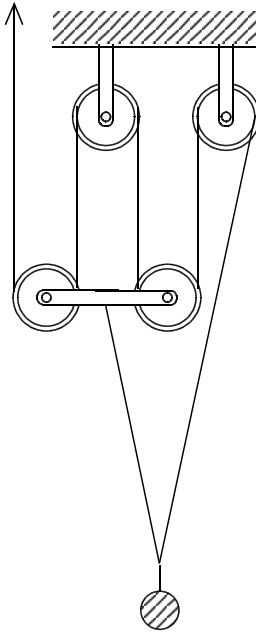
テクニカル・ロープレスキュー・テキストより

神奈川県立湘南高校 山本明利

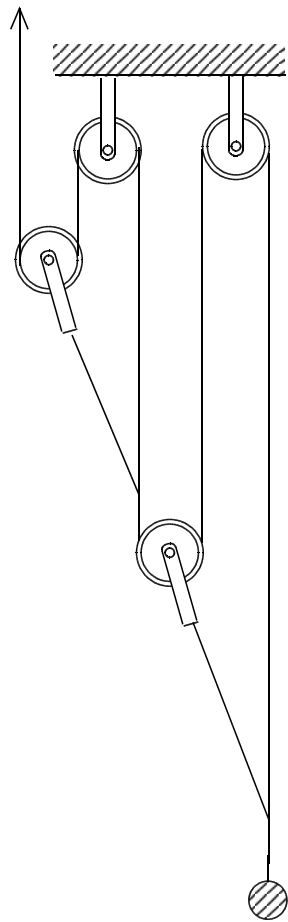
物理標準問題



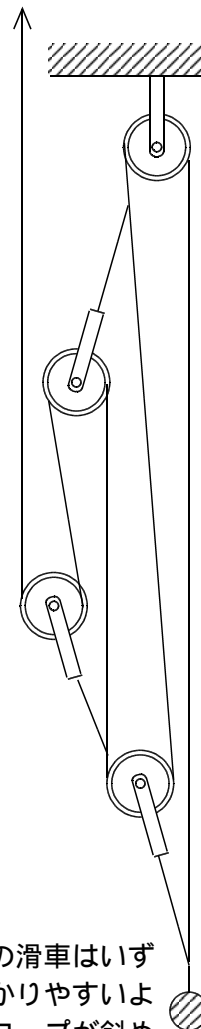
応用例題 1



応用例題 2



応用例題 3

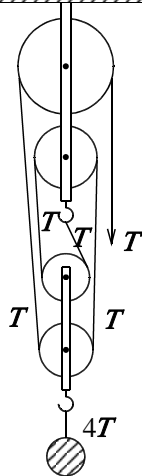


【問】矢印の先を引く力を T とすると、おもりを引く力はいくらか。4個の滑車はいずれもなめらかで軽く、ロープも軽くて伸び縮みしないものとする。図はわかりやすいように展開して描いてあるが、実際は折り重なるように配置しているので、ロープが斜めになっていることは考慮せず、すべて平行であるものと考えてよい。

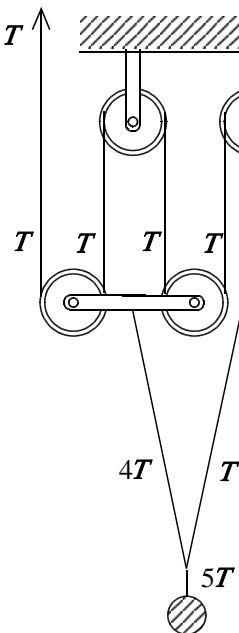
テクニカル・ロープレスキュー・テキストより(解答編)

神奈川県立湘南高校 山本明利

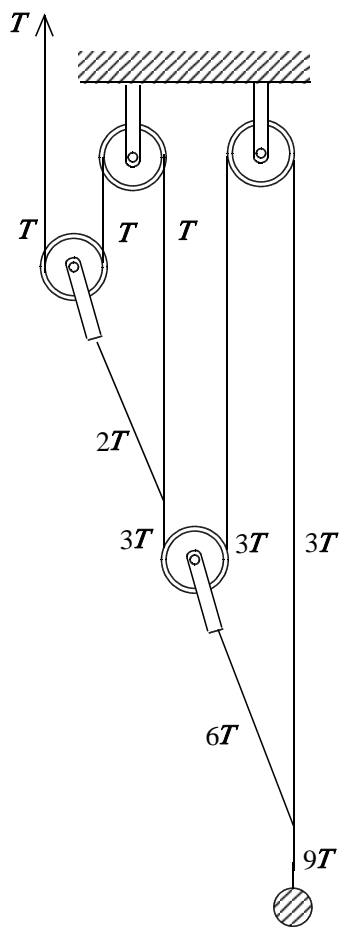
物理標準問題



応用例題 1



応用例題 2



応用例題 3

